



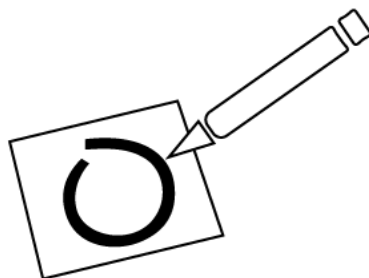
Shapes Expansion Instructions

Age range: 6+

Topic: Geometric shapes


Learning goal: In this expansion, children will practice identifying geometric shapes.

Note: This expansion builds on the Math Playground base game



Before You Play

1. Draw two **triangles**, two **squares**, and two **circles** in any blank spaces of the board game path (one shape in each space).
2. On the following pages, cut out the playing cards along the dotted lines.
3. After cutting, group the cards by shape into separate piles



4. Follow the game instructions to complete the setup.

As you play the game

- If you land on a shape space, grab one card from the corresponding pile (matching shape) and follow the instructions on the card.

Talk together

- How do you know that shape is a (triangle, square, or circle)?
- How many sides does the shape have? How many corners?
- Are there any other shapes that look similar to this one?

Extensión de figuras geométricas


Instrucciones

Edades: 6+

Tema: Figuras geométricas


Objetivo de aprendizaje: En esta extensión, los niños practicarán como identificar figuras geométricas.

Nota: Esta extensión es parte del juego El parque matemático.



Antes de jugar

1. Dibujen dos **triángulos**, dos **cuadrados** y dos **círculos** en los espacios vacíos del recorrido del juego. (Una figura por espacio)
2. En las páginas siguientes, recorten las cartas siguiendo las líneas de puntos.
3. Después de recortarlas, agrupen las cartas por figura geométrica en grupos separados.



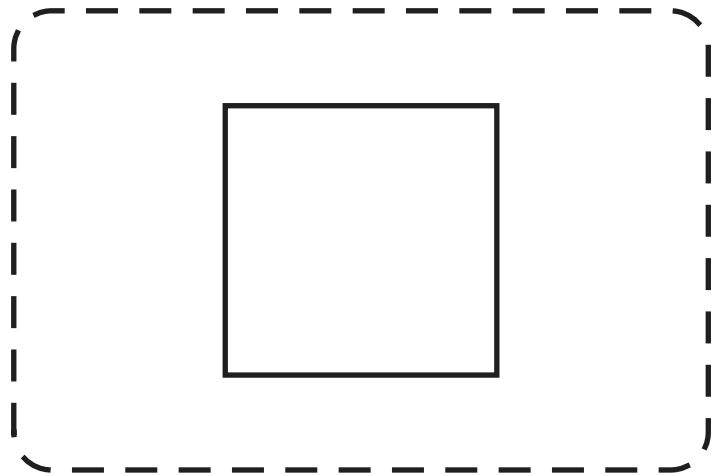
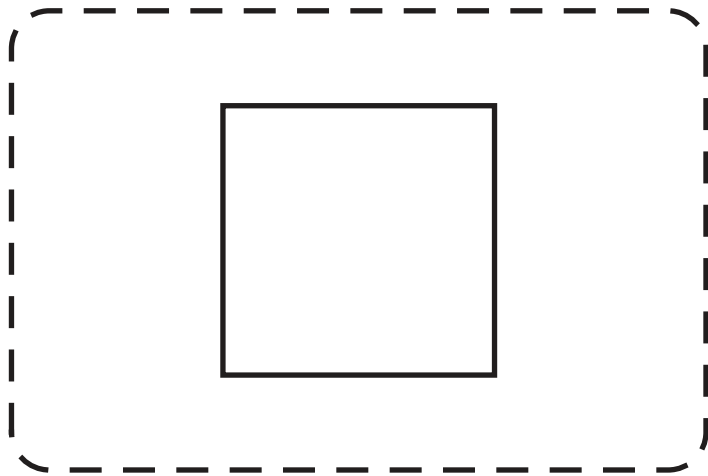
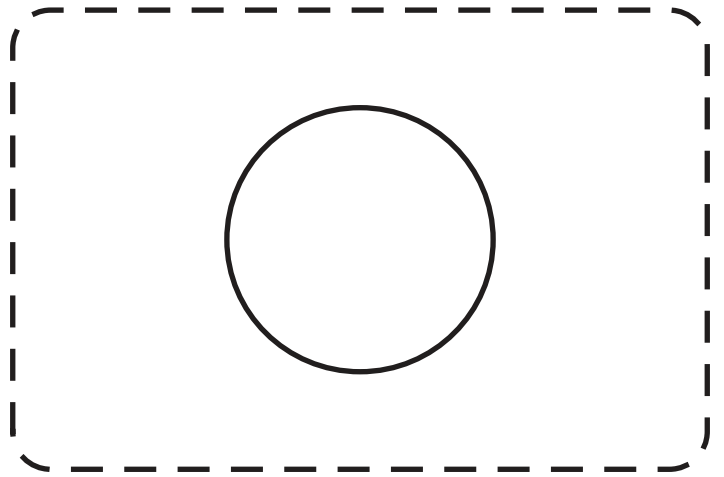
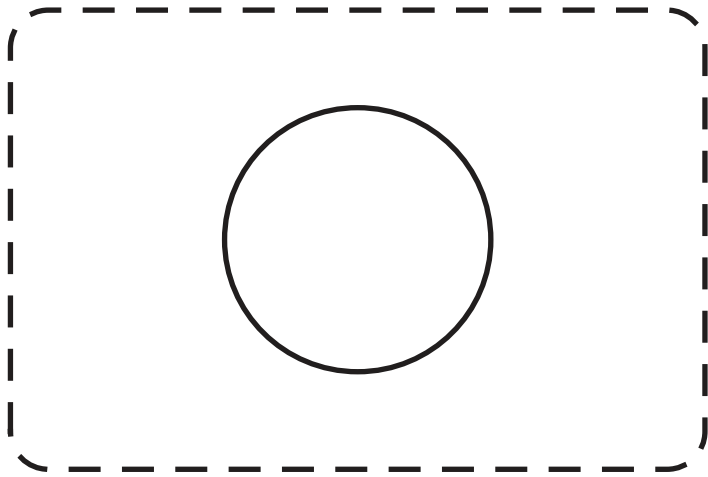
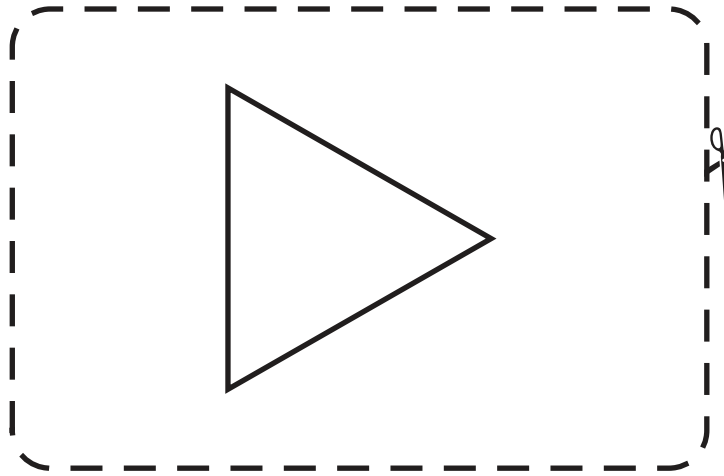
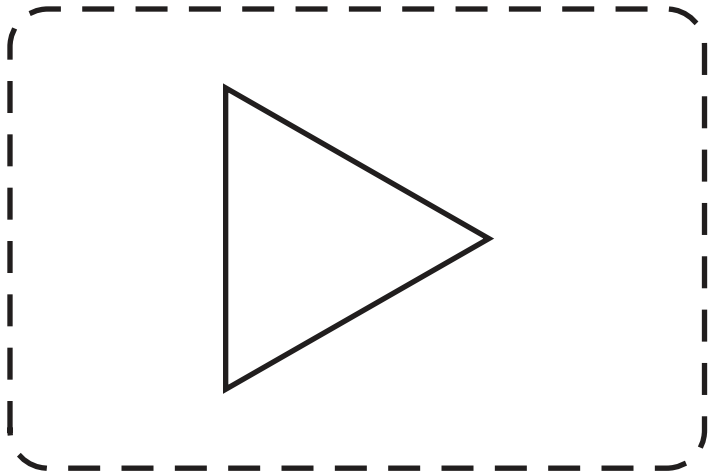
4. Siguen las instrucciones del juego para completar la preparación.

Mientras juegan

→ Si llegan a un espacio con una figura, agarran una carta del montón correspondiente (figura que coincida) y siguen las instrucciones de la carta.

Platiquen juntos

- ¿Cómo sabes que esa figura es un (triángulo, cuadrado o círculo)?
- ¿Cuántos lados tiene? ¿Cuántas esquinas?
- ¿Hay otras figuras parecidas a ésta?





**Move one
extra space**



**Avanza un
espacio**

**Take one
counter**



**Toma una
ficha**

**Put back
one counter**



**Devuelve
una ficha**

**Move two
extra spaces**



**Avanza dos
espacios**

**Take two
counters**

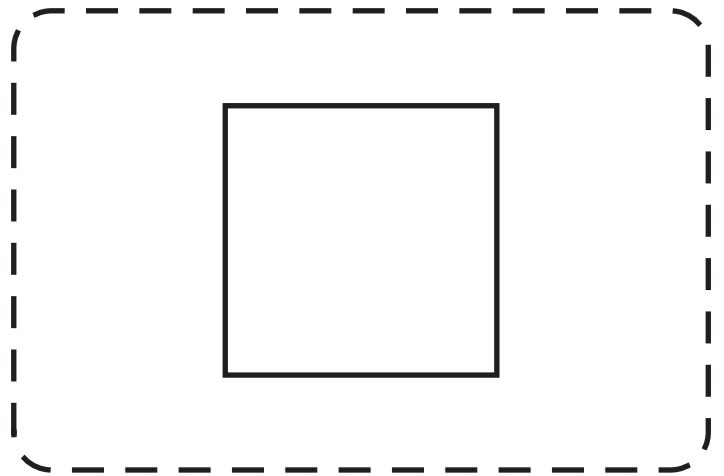
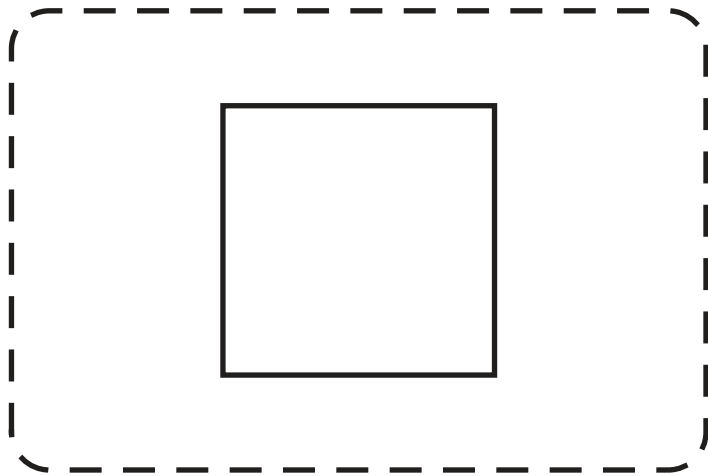
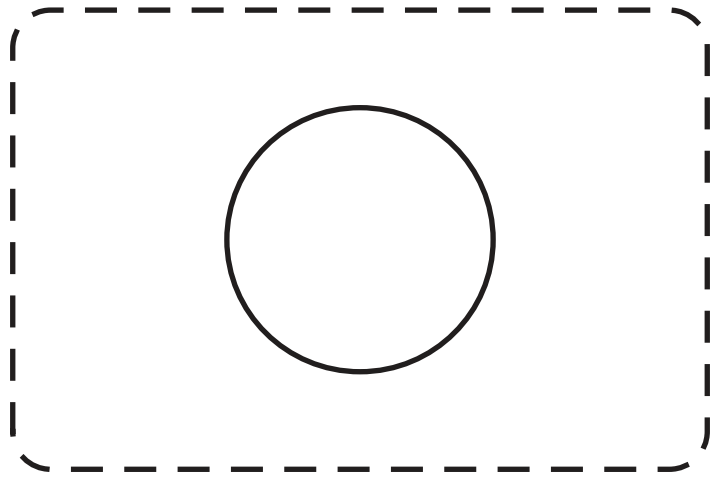
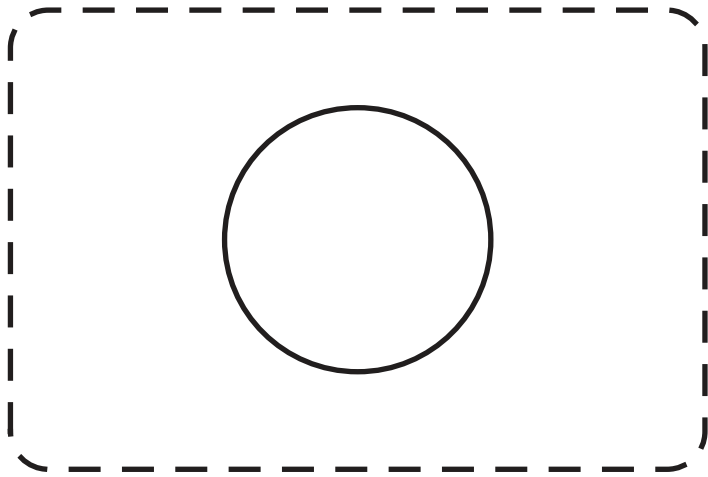
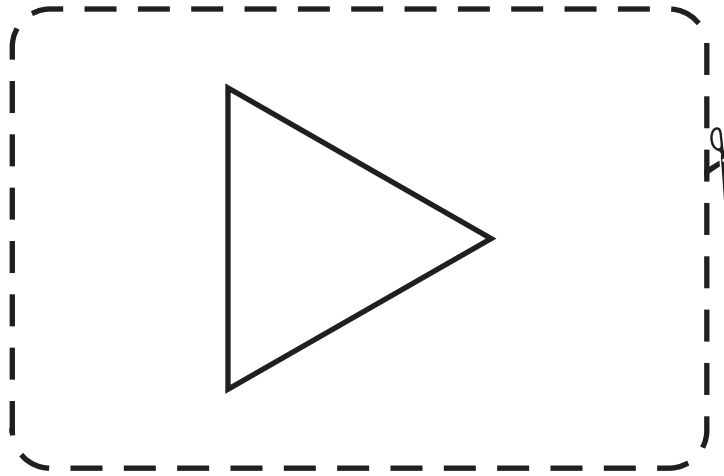
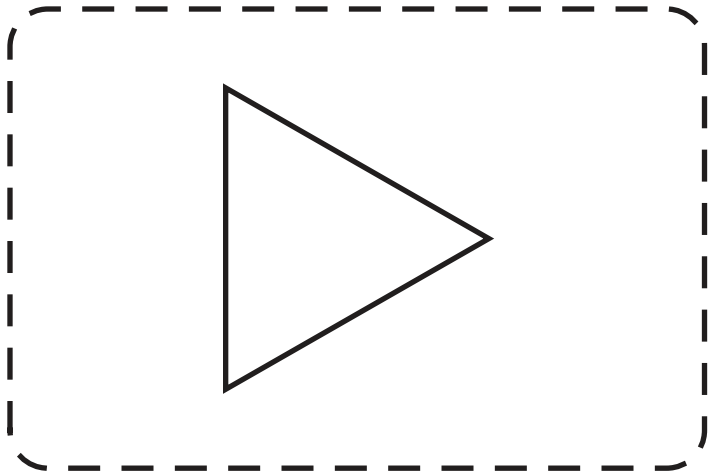


**Toma dos
fichas**

**Put back
two counters**



**Devuelve
dos fichas**





**Move three
extra spaces**

3 →

**Avanza tres
espacios**

**Take three
counters**

+3

**Toma tres
fichas**

**Put back
three counters**

-3

**Devuelve
tres fichas**

**Move four
extra spaces**

4 →

**Avanza cuatro
espacios**

**Take four
counters**

+4

**Toma cuatro
fichas**

**Put back
four counters**

-4

**Devuelve
cuatro fichas**